
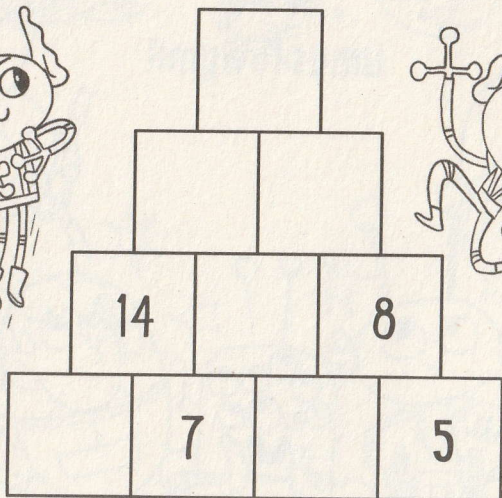
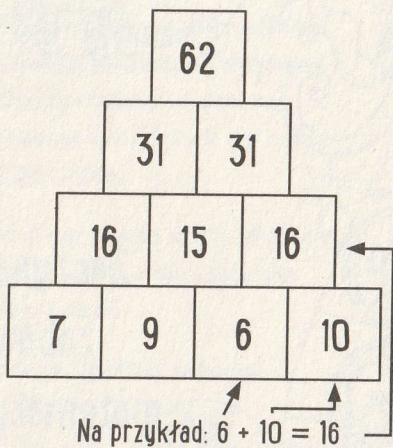



Czy potrafisz uzupełnić tę piramidę liczbową tak, aby w każdym z pól była liczba będąca sumą liczb znajdujących się w dwóch polach położonych bezpośrednio pod nim?

Popatrz obok, jak rozwiązano podobną piramidę:



Uzupełnij puste pola cyframi od 1 do 4. Każdą z nich użyj tylko jeden raz tak, aby zgadzały się wszystkie matematyczne działania w diagramie. Dwa działania należy czytać od lewej do prawej strony, a dwa pozostałe z góry na dół.

